


Área de figuras planas Polígonos regulares

1. Algumas figuras planas

Vamos recordar as fórmulas para o cálculo da área de algumas figuras planas.

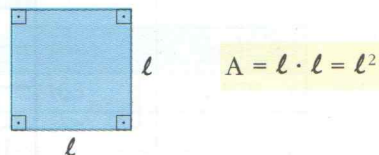
Retângulo

Seja a e b as dimensões do retângulo, a área A é dada por:



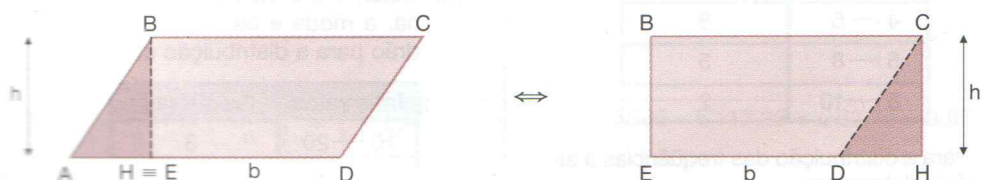
Quadrado

Seja l a medida do lado do quadrado, a área A é dada por:



Paralelogramo

Seja o paralelogramo de base b e altura h :



Pelas figuras, vemos que a área do paralelogramo é igual à do retângulo:

$A = b \cdot h$