

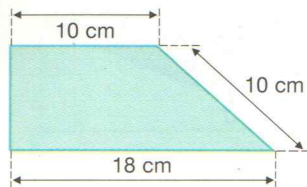
## EXERCÍCIOS PROPOSTOS

1. Determine a área do paralelogramo abaixo:



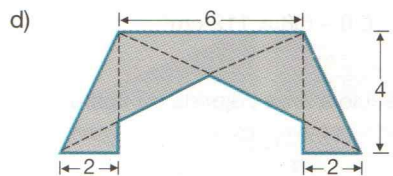
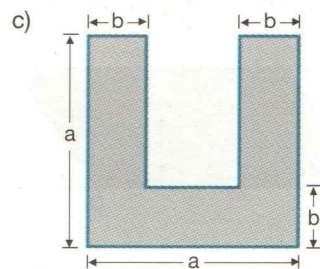
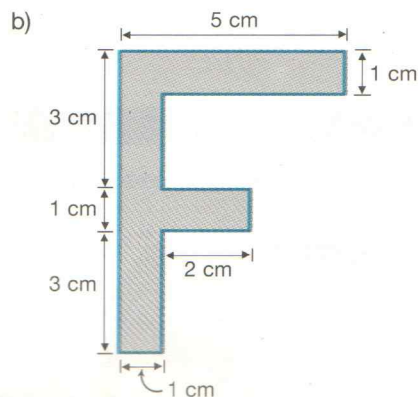
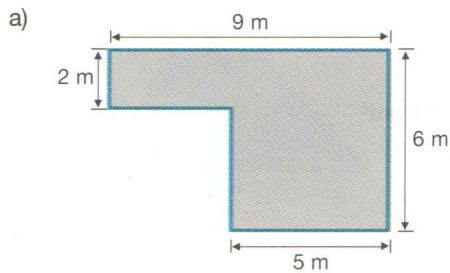
2. Calcule a área de um losango cujo perímetro mede 120 m e sua diagonal maior, 48 cm.

3. Calcule a área do trapézio.



4. Calcule as dimensões de um retângulo que tem área de  $32 \text{ cm}^2$  e perímetro de 24 cm.

5. Calcule a área de cada uma das seguintes figuras:



6. Calcule a área do triângulo ABC em cada caso:

